

## REFUERZO

1- Colorea el círculo con el número más próximo :

(350)    378    (400)    ,    (600)    639    (650)    ,    (300)    328    (350)  
 (450)    468    (475)    ,    (550)    581    (600)    ,    (150)    186    (200)

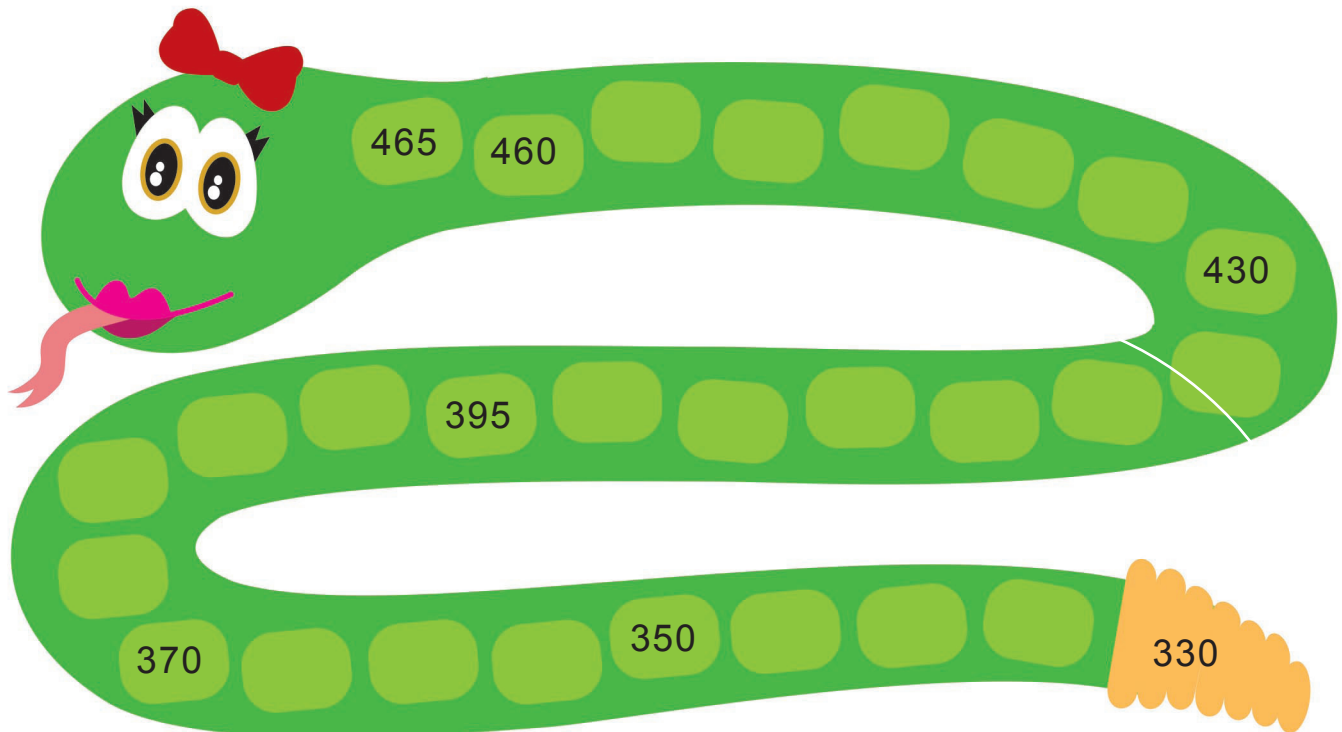
2- Escribe con letras :

328 = trescientos veintiocho

639 = \_\_\_\_\_

328 = \_\_\_\_\_

3- Completa la serie :



## REFUERZO

1- Escribe los números en vertical y resuelve las operaciones :

$$32 + 14 + 10 = \boxed{\phantom{00}}$$

$$\begin{array}{r}
 \phantom{00} \\
 \phantom{00} \\
 \phantom{00} \\
 + \phantom{00} \\
 \hline
 \phantom{00}
 \end{array}$$

$$25 + 38 + 17 = \boxed{\phantom{00}}$$

$$\begin{array}{r}
 \phantom{00} \\
 \phantom{00} \\
 \phantom{00} \\
 + \phantom{00} \\
 \hline
 \phantom{00}
 \end{array}$$

$$28 + 40 + 10 = \boxed{\phantom{00}}$$

$$\begin{array}{r}
 \phantom{00} \\
 \phantom{00} \\
 \phantom{00} \\
 + \phantom{00} \\
 \hline
 \phantom{00}
 \end{array}$$

$$22 + 13 + 14 = \boxed{\phantom{00}}$$

$$\begin{array}{r}
 \phantom{00} \\
 \phantom{00} \\
 \phantom{00} \\
 + \phantom{00} \\
 \hline
 \phantom{00}
 \end{array}$$

2- Cálculo mental :

$$5 + 5 - 3 = \boxed{\phantom{00}}$$

$$22 + 5 - 4 = \boxed{\phantom{00}}$$

$$12 + 10 - 5 = \boxed{\phantom{00}}$$

$$38 + 8 - 5 = \boxed{\phantom{00}}$$

$$18 + 3 - 1 = \boxed{\phantom{00}}$$

$$14 + 22 - 7 = \boxed{\phantom{00}}$$

3- Resuelve :

$$\begin{array}{r}
 50 \\
 - 25 \\
 \hline
 \phantom{00}
 \end{array}$$

$$\begin{array}{r}
 88 \\
 - 12 \\
 \hline
 \phantom{00}
 \end{array}$$


$$\begin{array}{r}
 37 \\
 - 11 \\
 \hline
 \phantom{00}
 \end{array}$$

$$\begin{array}{r}
 28 \\
 - 22 \\
 \hline
 \phantom{00}
 \end{array}$$



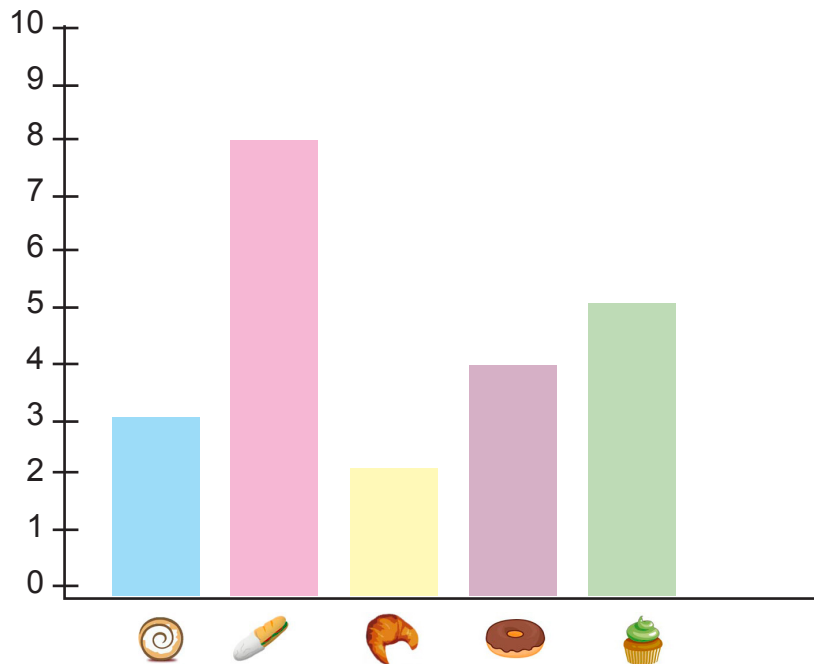
# REFUERZO

1- Dibuja ángulos :



Interpretar gráficos

2- Alimentos consumidos en una fiesta de cumpleaños :



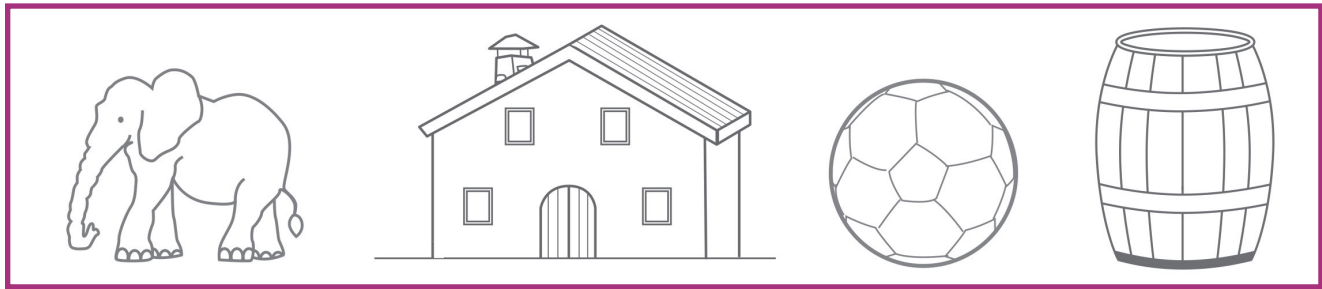
Responde según el gráfico :

- ¿ Cuántos han comido ensaimada ? .....
- ¿ De cuál se ha comido más ? .....
- ¿Cuál ha gustado menos ? .....



## REFUERZO

1- Colorea el que pesa menos de cada grupo :



2- Rodea todos los que pesan un kilo y más de un kilo :




3- Completa :



$$\frac{1}{2} \text{ kg} + \dots = \dots$$

# REFUERZO

1- Resuelve :



$$\begin{array}{r} 38 \\ - 19 \\ \hline \end{array}$$

$$\begin{array}{r} 52 \\ - 35 \\ \hline \end{array}$$

$$\begin{array}{r} 81 \\ - 65 \\ \hline \end{array}$$

$$\begin{array}{r} 55 \\ - 39 \\ \hline \end{array}$$

$$\begin{array}{r} 55 \\ - 31 \\ \hline \end{array}$$

$$\begin{array}{r} 24 \\ - 10 \\ \hline \end{array}$$

$$\begin{array}{r} 43 \\ - 37 \\ \hline \end{array}$$

$$\begin{array}{r} 73 \\ - 18 \\ \hline \end{array}$$

$$\begin{array}{r} 58 \\ - 19 \\ \hline \end{array}$$

$$\begin{array}{r} 64 \\ - 17 \\ \hline \end{array}$$

$$\begin{array}{r} 61 \\ - 36 \\ \hline \end{array}$$

$$\begin{array}{r} 83 \\ - 59 \\ \hline \end{array}$$

$$\begin{array}{r} 39 \\ - 19 \\ \hline \end{array}$$

$$\begin{array}{r} 33 \\ - 28 \\ \hline \end{array}$$

$$\begin{array}{r} 73 \\ - 47 \\ \hline \end{array}$$

$$\begin{array}{r} 94 \\ - 55 \\ \hline \end{array}$$

$9 - 5 = \dots\dots\dots$	$8 - 3 = \dots\dots\dots$	$10 - 5 = \dots\dots\dots$	$6 - 6 = \dots\dots\dots$
$11 - 5 = \dots\dots\dots$	$10 - 6 = \dots\dots\dots$	$9 - 1 = \dots\dots\dots$	$7 - 3 = \dots\dots\dots$



# REFUERZO

1- ¿ Qué hora es ? :



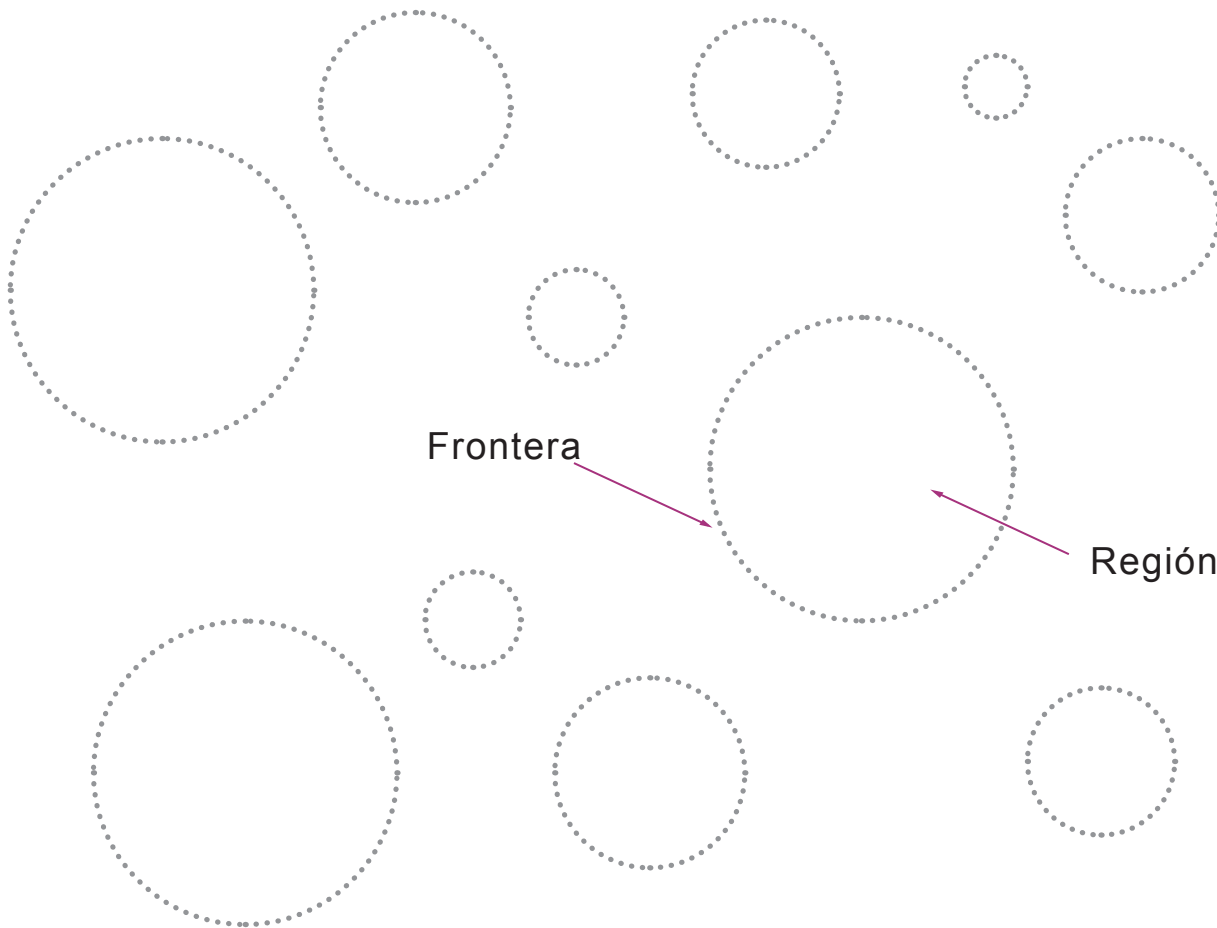
Las \_\_\_\_\_



\_\_\_\_\_


## Círculo y circunferencia

1- Repasa las circunferencias o fronteras de color verde y pinta los círculos o regiones de color amarillo :




# REFUERZO

1- Dibuja :



4 radios



6 radios

2- Ordena de menor a mayor :

734 - 218 - 523 - 433 - 512 - 418

.....

3- Ordena de mayor a menor :

174 - 38 - 333 - 748 - 512 - 418

.....

## Meses del año

1- Escribe los meses del año :

E \_\_\_\_\_

F \_\_\_\_\_

\_\_\_\_\_

\_\_\_\_\_

\_\_\_\_\_

\_\_\_\_\_

\_\_\_\_\_

\_\_\_\_\_

\_\_\_\_\_

\_\_\_\_\_

\_\_\_\_\_

\_\_\_\_\_

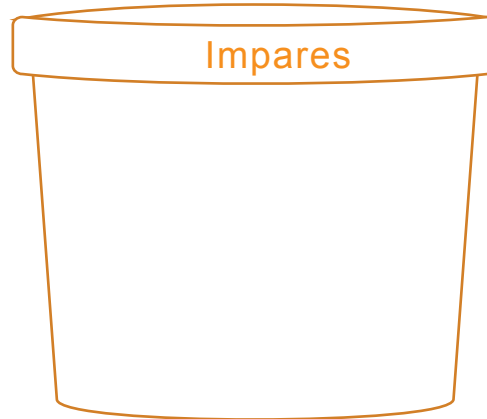
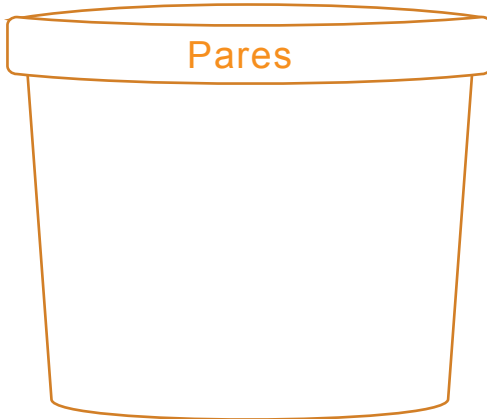


## REFUERZO

1- Clasifica los números siguientes :

378 - 217 - 514 - 444 - 311 - 509

209 - 41 - 118 - 220 - 335 - 412



### Cálculo

1- Calcula :

$$\begin{array}{r} 823 \\ + 156 \\ \hline \end{array}$$

$$\begin{array}{r} 643 \\ + 233 \\ \hline \end{array}$$

$$\begin{array}{r} 614 \\ + 253 \\ \hline \end{array}$$

$$\begin{array}{r} 318 \\ + 420 \\ \hline \end{array}$$

$$\begin{array}{r} 614 \\ - 174 \\ \hline \end{array}$$

$$\begin{array}{r} 832 \\ - 233 \\ \hline \end{array}$$

$$\begin{array}{r} 544 \\ - 71 \\ \hline \end{array}$$

$$\begin{array}{r} 743 \\ - 420 \\ \hline \end{array}$$

2- Cálculo mental :

$21 + 11 - 7 = \boxed{\phantom{00}}$

$37 + 10 - 5 = \boxed{\phantom{00}}$

$38 + 19 - 8 = \boxed{\phantom{00}}$

$44 + 12 - 9 = \boxed{\phantom{00}}$





# REFUERZO

1- Pasa a unidades :

3 decenas : ..... unidades.

6 decenas : ..... unidades.

5 centenas : ..... unidades.

3 centenas : ..... unidades.

2- Descompón :

378 : .. 3 centenas .. 7 decenas .. 8 unidades .....

581 : .....

347 : .....

210 : .....

## Problema

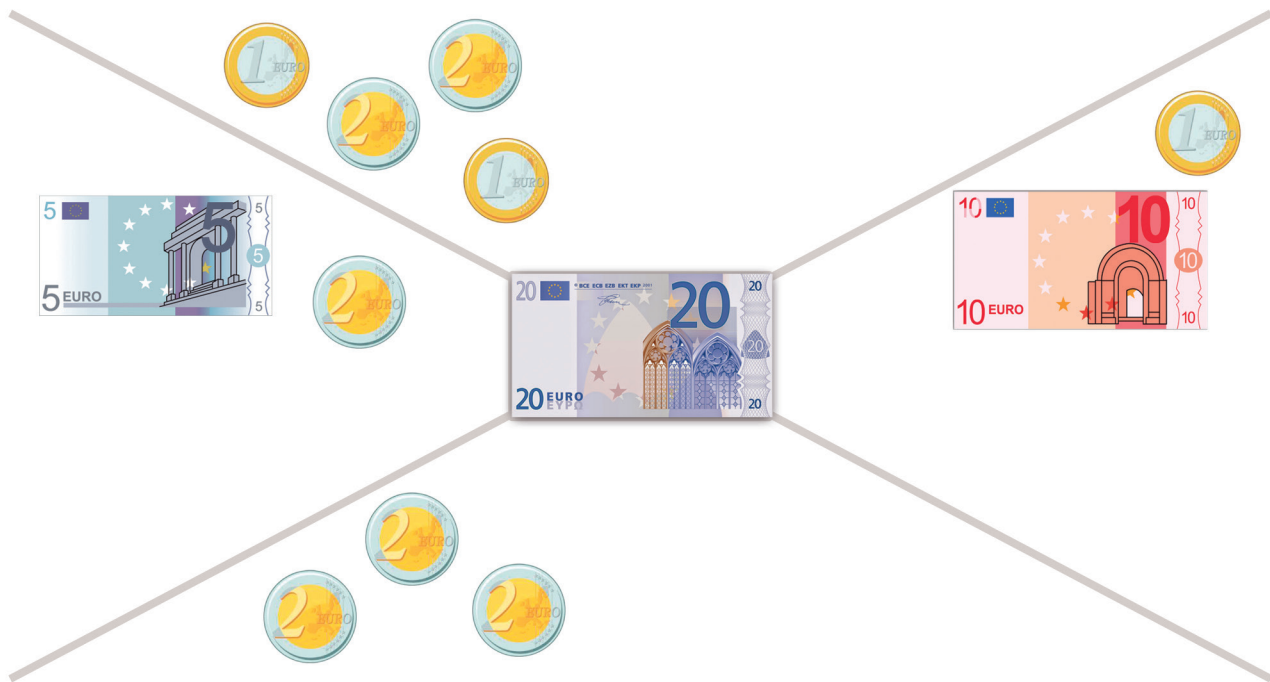
1- De una caja de melocotones se han sacado 6 y quedan 18.  
¿ Cuántos melocotones tenía la caja ?

Tenía ..... melocotones.



## REFUERZO

1- Completa :



### Problemas

- 1- En el supermercado tenían 150 latas de sardinas. Si ayer vendieron 63 y hoy 37, ¿ cuántas latas de sardinas quedan en el supermercado ?

Quedan ..... latas de sardinas.

- 2- En un edificio de 3 plantas viven 17 vecinos. Si en la primera planta viven 4 vecinos y en la segunda planta, 6 vecinos, ¿ cuántos vecinos viven en la tercera planta ?

Viven ..... vecinos.



**REFUERZO**

- 1- Dibuja un triángulo, un cuadrado y un rectángulo. Escribe el nombre :



.....



.....



.....

**Triángulos**

- 1- Dibuja triángulos que tengan las características siguientes :



Ningún lado igual



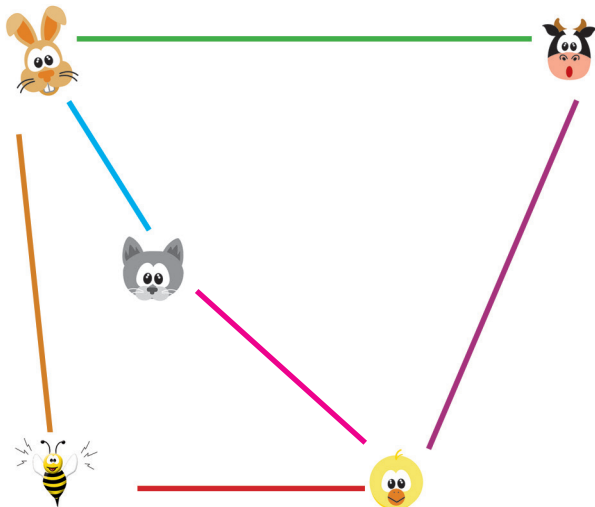
2 lados iguales



3 lados iguales

**Medir en cm.**

- 1- Mide en cm y escribe la distancia que hay entre... :



- El conejo y la vaca ..... cm.
- La vaca y el pollito ..... cm.
- El pollito y la abeja ..... cm.
- La abeja y el conejo ..... cm.
- El conejo y el gato ..... cm.
- El gato y el pollito ..... cm.



## REFUERZO

1- Calcula :

$$\begin{array}{r} 418 \\ + 437 \\ \hline \end{array}$$

$$\begin{array}{r} 374 \\ + 612 \\ \hline \end{array}$$

$$\begin{array}{r} 512 \\ + 411 \\ \hline \end{array}$$

$$\begin{array}{r} 328 \\ + 320 \\ \hline \end{array}$$

$$\begin{array}{r} 216 \\ + 341 \\ \hline \end{array}$$

$$\begin{array}{r} 411 \\ + 120 \\ \hline \end{array}$$

$$\begin{array}{r} 512 \\ + 112 \\ \hline \end{array}$$

$$\begin{array}{r} 448 \\ + 341 \\ \hline \end{array}$$

$$\begin{array}{r} 718 \\ - 341 \\ \hline \end{array}$$

$$\begin{array}{r} 644 \\ - 251 \\ \hline \end{array}$$

$$\begin{array}{r} 532 \\ - 418 \\ \hline \end{array}$$

$$\begin{array}{r} 437 \\ - 234 \\ \hline \end{array}$$

$$\begin{array}{r} 648 \\ - 211 \\ \hline \end{array}$$

$$\begin{array}{r} 722 \\ - 418 \\ \hline \end{array}$$

$$\begin{array}{r} 417 \\ - 309 \\ \hline \end{array}$$

$$\begin{array}{r} 589 \\ - 124 \\ \hline \end{array}$$

2- Pinta el círculo con el número más próximo :

(700) **734** (750)

(650) **644** (700)

(500) **537** (550)

(200) **218** (225)

(300) **318** (325)

(200) **214** (225)



# REFUERZO

- 1- Tengo 8 cromos y compro 6 más. ¿ Cuántos me faltan para completar una página donde caben 20 ?

Me faltan .....

- 2- En una granja hay 18 cerdos y 24 gallos. ¿ Cuántos gallos hay más que cerdos ?

Hay ..... gallos más.

## El reloj

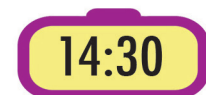
- 1- Relaciona :

Las nueve en punto.

Las dos y media.

Las ocho en punto.

La una en punto.



# REFUERZO

1- Cuenta los lados y escribe el nombre de los cuadriláteros :



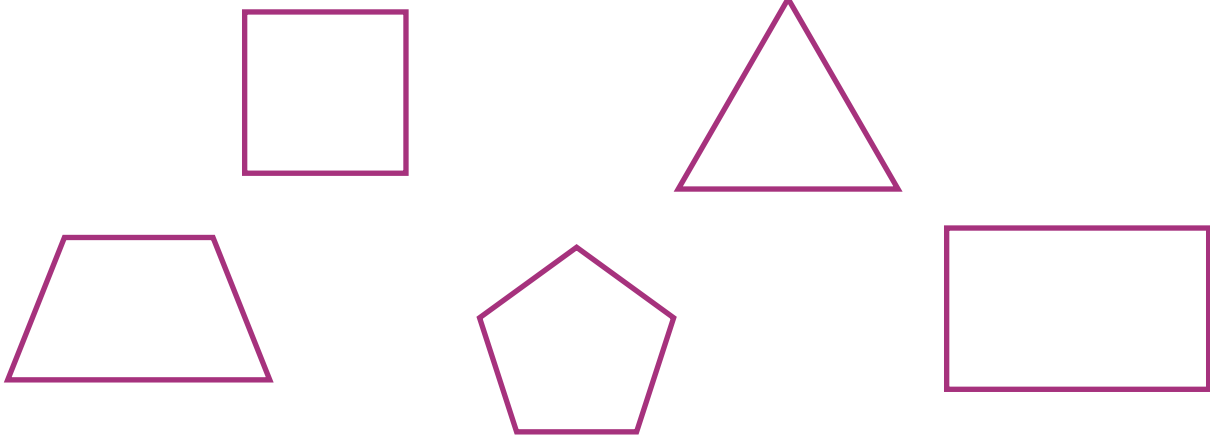
.....

.....

.....

## Ángulos

1- Señala los vértices y los ángulos de las siguientes figuras :





2- Dibuja figuras geométricas que tengan :

3 ángulos

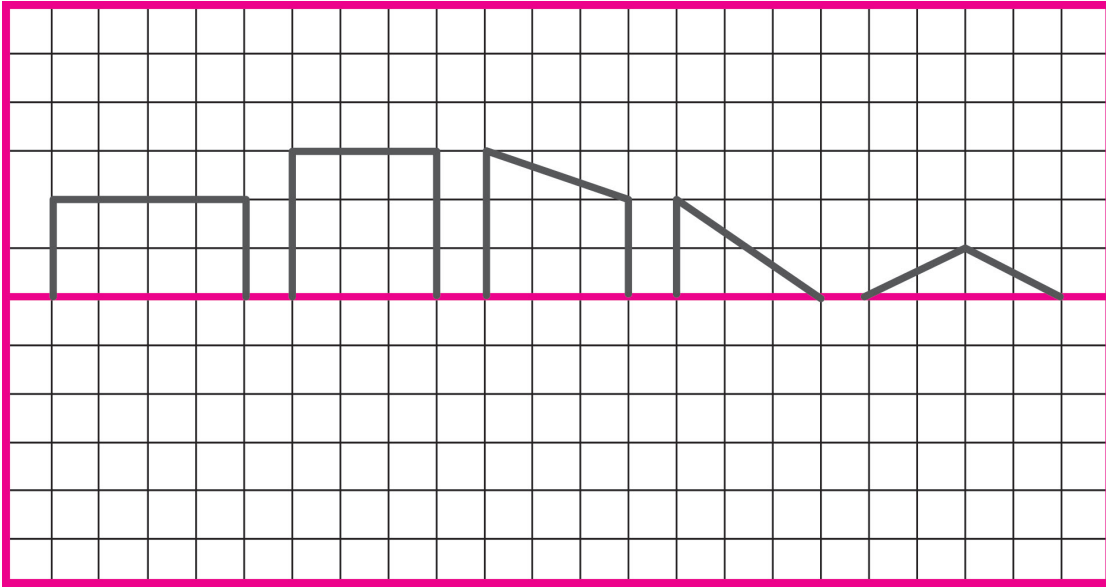
4 ángulos

6 ángulos



# REFUERZO

1- Completa las figuras según el eje de simetría :



## Centenas, decenas y unidades

1- Completa :

6 c	.....	
3 d	.....	
2 u	.....	
	+	
		632

3 c	.....	
8 d	.....	
2 u	.....	
	+	

8 c	.....	
5 d	.....	
1 u	.....	
	+	

4 c	.....	
2 d	.....	
2 u	.....	
	+	



## REFUERZO

1- Relaciona cada número con su doble :

2 0 0

5 0

5 0 0

3 0 0

1 5 0

2 5

4 0 0

2 5 0

2- Ahora, escríbelos :

25 → 50

..... → .....

..... → .....

..... → .....

### Estadística

1- Representa gráficamente los peces que hay en la pecera :

